



## École enfantine/primaire 1

Nom: \_\_\_\_\_

### Plus ou moins?

#### Exercice 1

Compte les collations pour les dix-heures. Inscris leur nombre.

#### Exercice 2

Où y en a-t-il le plus? Entoure-les.

#### Exemple

<p>5</p>	<p>6</p>		



## École enfantine/primaire 1

Nom: \_\_\_\_\_

### Plus ou moins?


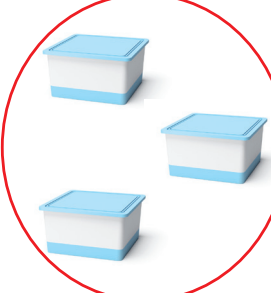
#### Exercice 3



Compte les produits laitiers. Inscris leur nombre.



#### Exercice 4



Où y en a-t-il le moins? Entoure-les.



Exemple



	
<b>4</b>	<b>3</b>

	
<input type="text"/>	<input type="text"/>

	
<input type="text"/>	<input type="text"/>

	
<input type="text"/>	<input type="text"/>

	
<input type="text"/>	<input type="text"/>

	
<input type="text"/>	<input type="text"/>



# Solution

## Plus ou moins?

### Exercices 1 et 2

#### Exemple

<p>5</p>	<p>6</p>	<p>4</p>	<p>5</p>
<p>9</p>	<p>7</p>	<p>3</p>	<p>2</p>
<p>10</p>	<p>8</p>	<p>7</p>	<p>8</p>



# Solution

## Plus ou moins?

### Exercices 3 et 4

#### Exemple

